

| OBJETIVOS DE APRENDIZAJE | INDICADORES |
|--------------------------|--|
| OA 1 | Explican las principales etapas del proceso de evolución de la especie humana, utilizando líneas temporales y distintos recursos para ilustrar el proceso Describen el proceso de expansión del Homo sapiens por el planeta, apoyándose en mapas y en explicaciones geográficas, valorando la relación ser humano-medio. Comparan las rutas y fechas del poblamiento americano con el fin de identificar evidencias que las respaldan y que las contradicen. |

INSTRUCCIONES :

- 1.- DESDE EL TEXTO DE ESTUDIO DE HISTORIA Y TRABAJA CON LAS PÁGINAS 14.15.16.17.18.19
- 2.-ESCRIBE LA GUÍA EN TU CUADERNO Y LUEGO RESUELVELA, (SI PUEDES IMPRIMIRLA PEGALA EN TU CUADERNO)
- 3.-RECUERDA PONERLE EL TÍTULO Y LA FECHA EN QUE LA REALIZAS

FECHA

TITULO:” Los primeros pasos de la evolución humana”

I.-LEE Y COMPLETA LAS ORACIONES (PAG 14)

- 1.- La teoría que explica la aparición y transformación humana se llama :.....
- 2.-Esta teoría fue formulada por
- 3.-La tierra sufrió importantes cambios, como :.....
- 4.-Las especies debieron adaptar , los animales :.....y también se desplazaban
- 5.- El **bipedismo** es la capacidad de

II.- OBSERVA LA IMAGEN DE LA PAG 15 .

DIBUJA O CALCA LA IMAGEN EN TU CUADERNO Y SEÑALA LAS CARACTERISTCAS DE :

A.-LA TIERRA :



B.- LA PRIMERA ESPECIE HUMANA(DIBUJA, LEE Y RESPONDE) PAG 15

¿HACE CUÁNTO TIEMPO?.....


¿Cómo se llamo fue la primera familia en adoptar la posición bípeda permanente?


.....

¿Para qué les sirvió la posición **BIPEDA**?

.....

.....





III.- TITULO 2 : La gran familia humana (PAG 16)

LEE Y COMPLETA :

- 1.- Cambios :..... que fueron parte del proceso evolutivo de la especie humana
- 2.- Estos cambios se produjeron hace
- 3.-La Tierra hace años ,fue el hogar de variadas especies de.....
- 4.-**Observa : el Posible esquema evolutivo de los seres humanos.(pag 16,17) y señala el nombre de cada especie y una característica .**

| Especie humana | Característica |
|----------------|----------------|
| 1.- | |
| 2.- | |
| 3.- | |
| 4.- | |
| 5.- | |



IV.- TITULO 3:”El Homo sapiens: de África a América”

ESCRIBE LA SIGUIENTE INFORMACION Y EL CUADRO

Hace unos 100 mil años, la especie **Homo sapiens** (de la que todos los seres humanos actuales somos parte) comenzó a migrar de **África** y, en unos milenios, logró habitar **todos los continentes**.
El HOMO SAPIENS EL último continente que pobló fue **América**.

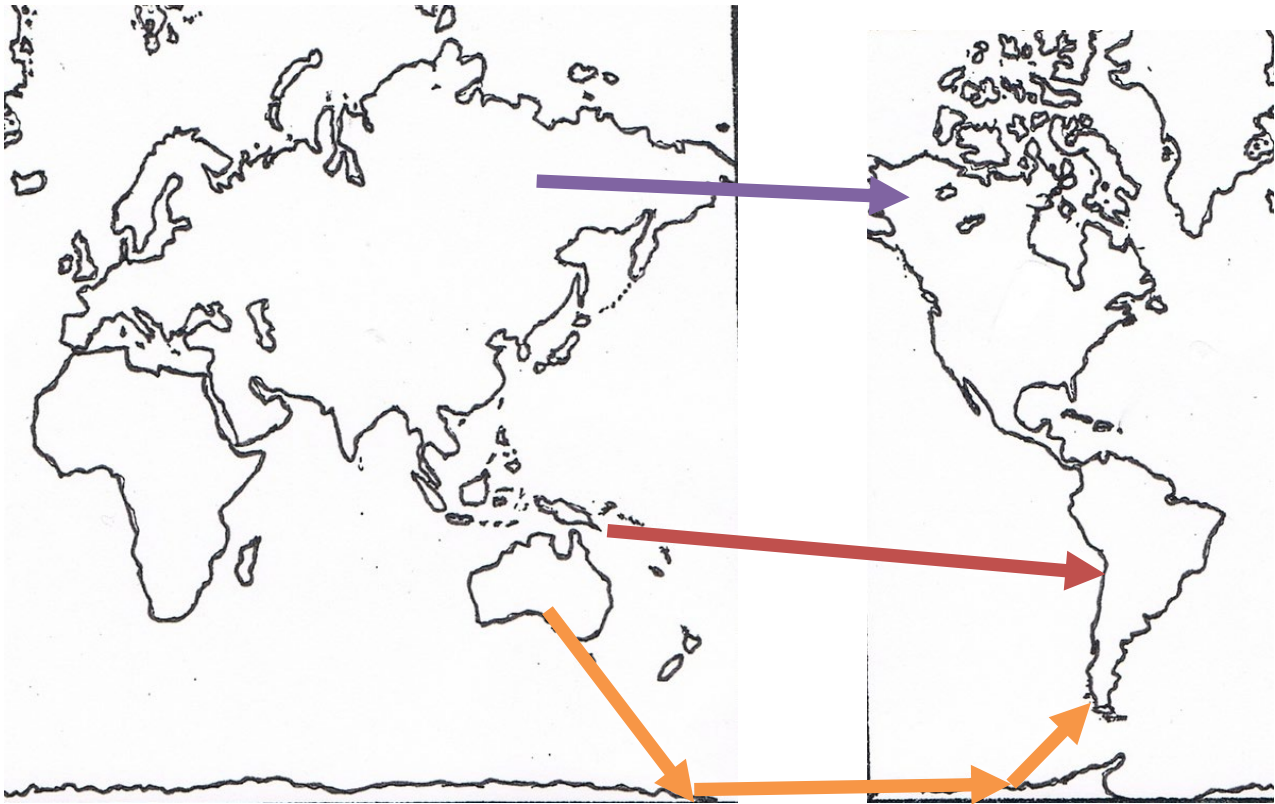
TEORIAS DEL POBLAMIENTO AMERICANO

EXISTEN DIVERSAS TEORIAS QUE DAN ORIGEN AL POBLAMIENTO AMERICANO

| Ruta de Bering | Ruta costera | Ruta atlántica | Ruta transpacífica | Ruta Oceanía - Antártica |
|--|---|---|--|--|
| Postula que los primeros habitantes de América llegaron desde Asia atravesando un “ punte terrestre ” que unió Siberia con Alaska durante la última glaciación . | Postula que grupos humanos cruzaron a América siguiendo las costas existentes entre Asia y América del Norte. | Postula que grupos humanos habrían navegado desde Europa a América , bordeando las costas de Islandia y Groenlandia. . | Postula que grupos humanos de la Polinesia y la Melanesia habrían llegado a América navegando por las islas del océano Pacífico sur . | Postula que poblaciones provenientes de Australia habrían llegado a América atravesando la Antártica , cuyo clima en ese momento habría permitido un viaje de esas características. |
| AUTOR : Alex Hrdlicka , afirmó que la población americana tendría un único origen: asiático | Propuesta por varios investigadores, | Los investigadores discuten su importancia e impacto sobre el territorio | AUTOR:: Paul Rivet reconoció otras posibles rutas. | AUTOR: Mendes Correia , ha sido muy difícil de verificar por la falta de evidencias. |

V.-OBSERVA EL MAPA DE LA PAG 18 Y 19 . REALIZA LA SIMBOLOGIA PARA SEÑALAR SOLO 3 QUE TEORIAS DEL POBLAMIENTO AMERICANO

(DIBUJA O CALCA ESTA MAPA EN TU CUADERNO)



SIMBOLOGIA : TEORIAS