



MATEMÁTICA

Unidad 1 “Los Números”


Nombre: _____ Fecha: _____

Semana 6

OA. 1 Contar números del 0 al 50 de 1 en 1, de 2 en 2, de 5 en 5 y de 10 en 10, hacia adelante y hacia atrás, empezando por cualquier número menor que 50.

- Cuentan de 1 en 1 números dados en una secuencia numérica hasta 20, partiendo de 0.
- Cuentan hasta 20 de 2 en 2, partiendo de 0

1.- Cuenta y pintan la secuencia ordenada de 1 en 1 del 0 al 20.



2.- Escribe los números del 0 al 20 ordenados de 1 en 1 en los recuadros.

0									↓
→	9								↓
→	17				😊	😊	😊	😊	😊



MATEMÁTICA

Unidad 1 “Los Números”

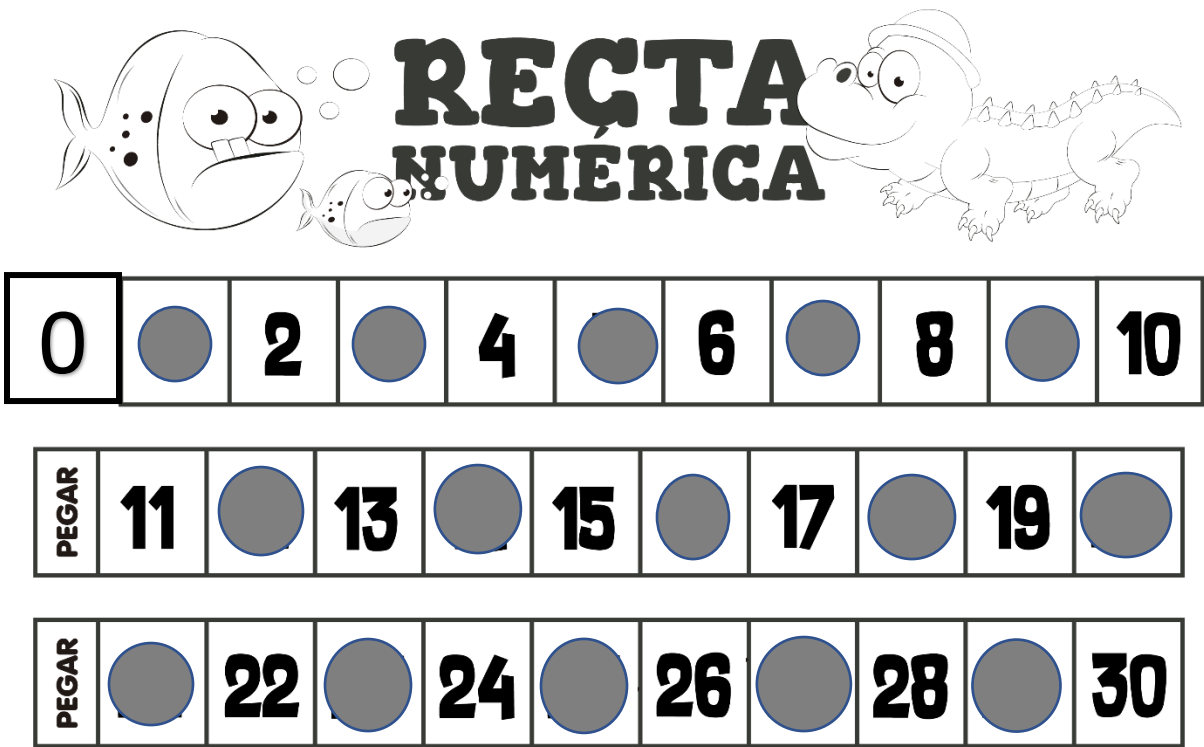
Nombre: _____ Fecha: _____

Semana 6

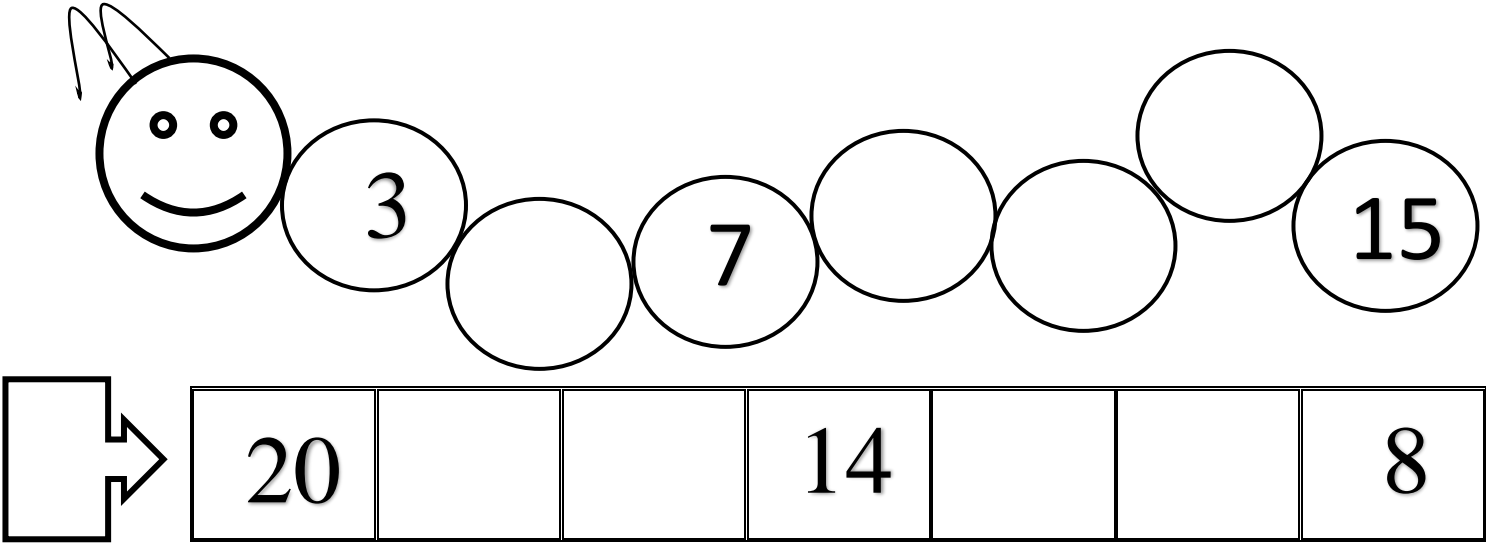
OA. 1 Contar números del 0 al 30 de 1 en 1, de 2 en 2, de 5 en 5 y de 10 en 10, hacia adelante y hacia atrás, empezando por cualquier número menor que 30.

- Cuentan hasta 20 de 2 en 2, partiendo de 0 hacia adelante y hacia atrás.

1.- Observa la recta numérica y cuenta de 2 en 2, la primera partiendo de 0 y las otras partiendo de un número cualquiera. Practica el conteo de 2 en 2 cada vez que repases la recta numérica.



2.- Completa las siguientes rectas numéricas contando de 2 en 2



➤ Escribe en tu cuaderno los números de 15 al 30 de 1 en 1.