

INSTRUCCIONES :

- 1.- DESDE EL TEXTO DE ESTUDIO DE HISTORIA Y TRABAJA CON LAS PÁGINAS 10,11,12 Y 13
- 2.-ESCRIBE LA GUÍA EN TU CUADERNO Y LUEGO RESUELVELA
- 3.-RECUERDA PONERLE EL TÍTULO Y LA FECHA EN QUE LA REALIZAS

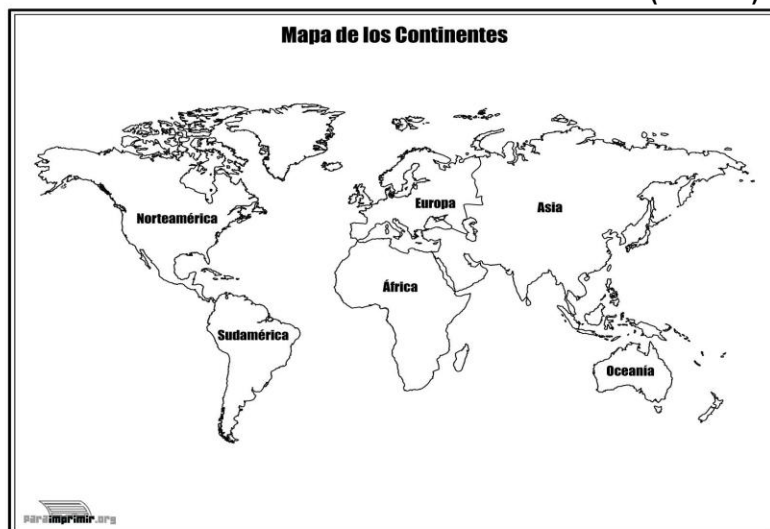
FECHA

UNIDAD 1 ¿Cómo cambió la vida de los seres humanos desde sus orígenes hasta las primeras civilizaciones?


Título:” Evolución de los seres humanos y su dispersión por el mundo.”

LEE Y DESARROLLA (PAG 10)

- 1.-¿QUÉ ES EVOLUCIÓN?
- 2.-¿ CUÁNTO DURO LA EVOLUCIÓN DE LOS SERES HUMANOS?
- 3.-¿QUÉ NOMBRE RECIBE EL PROCESO EVOLUTIVO DE LOS SERES HUMANOS?
- 4.- ¿QUÉ CAMBIOS HA PROVOCADO ESTE EVOLUCIÓN?
- 5.- OBSERVA .DIBUJA O CALCA UN MAPA Y SEÑALA EL AREA DE LA EVOLUCIÓN (PAG 11). Contexto espacial

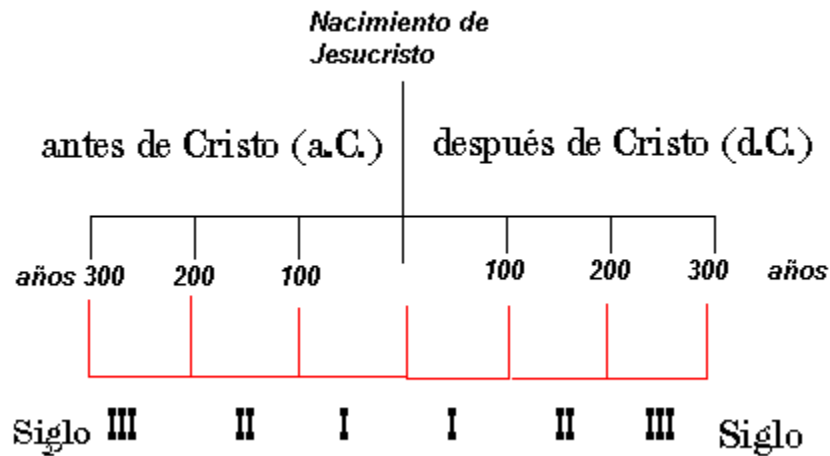


- 6.- LUEGO GRAFICA LA LINEA DE TIEMPO. Contexto temporal



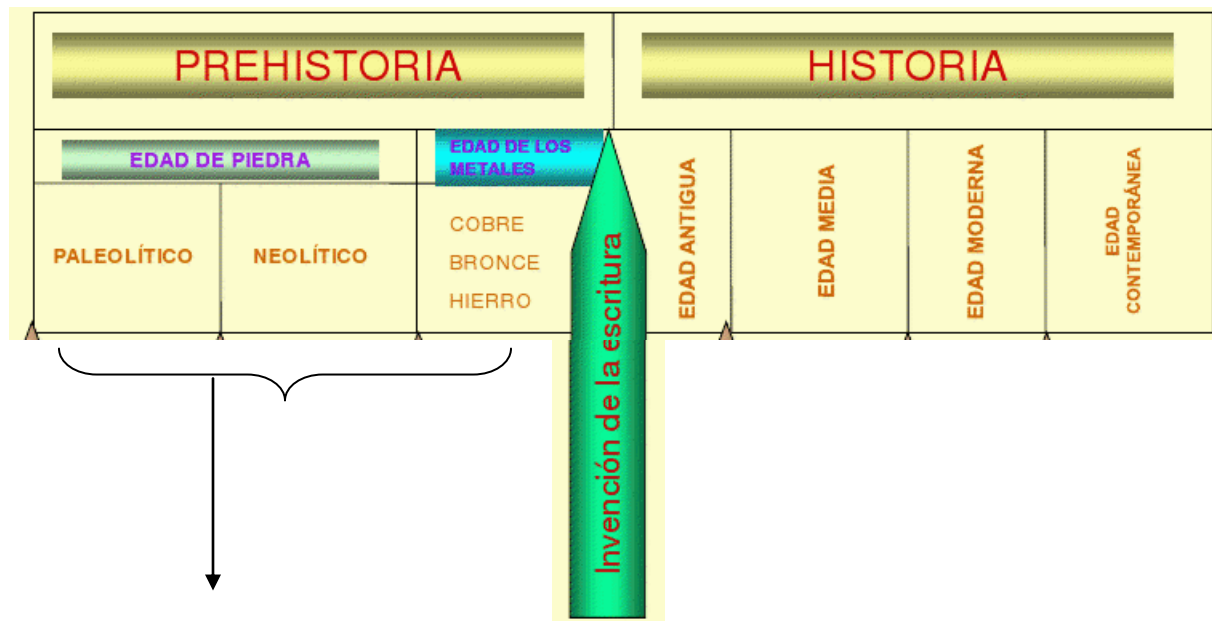
7.-ESCRIBE Y DIBUJA

RECUERDA QUE : A lo largo de la historia, las distintas culturas han utilizado hitos considerados importantes para marcar el inicio de sus cronologías y contar así, el transcurso del tiempo., En la actualidad se utiliza mayoritariamente una cronología basada en el nacimiento de Cristo. Desde este hecho hacia atrás se habla de “antes de Cristo” (a.C) y hacia delante de “después de Cristo” (d.C).



8.- LA HISTORIA TAMBIEN HA SIDO DIVIDIDA EN ETAPAS

REALIZA LA SIGUIENTE LINEA DE TIEMPO



ESTE ES EL PERIODO EN ESTUDIO

9.- OBSERVA LA INFOGRAFIA O IMAGEN (LÍNEA DE TIEMPO) DE LA PAG 13 Y LUEGO RESPONDE

- ¿Cuál es la primera y la última fecha que aparece en la línea de tiempo?
- ¿Qué periodos son propuestos en la línea de tiempo? (SIMBLOGIA)
- ¿Qué hechos o procesos dividen los periodos?